

Chimie Générale Avancée II-Partie Organique

Lundi 24 juin 2019 examen, 8h15 – 11h15

Conditions d'examen

- Les sacs doivent être déposés en bas de l'auditoire au début de l'examen.
- Les ordinateurs, les traducteurs électroniques, les calculatrices programmables et les smart phones sont interdits.
- Les candidats doivent déposer un **document d'identité** comportant une photographie en évidence sur la table. Ils devront signer une **feuille de présence** en rendant leur examen.
- Prière **de ne pas rédiger vos réponses au crayon à papier**.
- Merci de donner vos réponses sur les feuilles prévues à cet effet dans ce document. Il est autorisé de mettre une partie de la réponse sur la question elle-même. Des feuilles de brouillons seront mises à disposition. Si les feuilles de brouillon sont rendues avec l'examen, leur contenu sera considéré comme réponse à part entière.
- Prière de rendre ce document séparément de l'examen du Dr. Patiny
- Durée de l'examen : 180 min (pour les deux parties)
- Les dessins/explications illisibles seront considérées comme fausses. Si vous vous rendez compte qu'une partie de votre réponse est incorrecte, vous devez impérativement la tracer et écrire "FAUX" à côté. Cette partie ne sera alors pas considérée.
- La partie organique compte pour **deux tiers de la note finale**. 107 points sont possibles à la partie organique de l'examen.
- **A la fin de l'examen**: Merci de contrôler votre nom en première page, descendre apporter vos copies complètes en bas de la salle, les deux parties séparément et signer pour confirmer, reprendre vos affaires et remplir la feuille d'évaluation.
- **Pour la partie organique**: Des explications basées sur les orbitales sont nécessaires seulement si demandées spécifiquement. Les flèches indiquant le flot des électrons **doivent impérativement être dessinées** dans la description des mécanismes. Pour les composés contenant un/des centre(s) de chiralité, merci d'indiquer s'il s'agit d'un seul composé ou un mélange racémique/de diastéréoisomères.

Matériel autorisé

- Modèles moléculaires
- Le formulaire qui sera mis à disposition pour la partie analytique
- Une calculatrice non programmable

NOM :

Prénom :

Section :

N° de place :

Ex N°1 :/16

Ex. N°2...../28

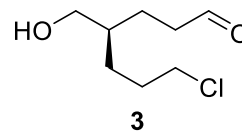
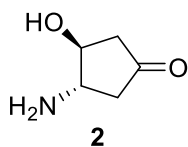
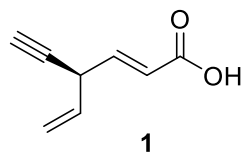
Ex. N°3...../27

Ex N°4 :/36

Total :/107

Exercice 1 (16 points)

Donner la nomenclature systématique des composés suivants. Les réponses peuvent être en Français ou en Anglais



Vos réponses

1

2

3

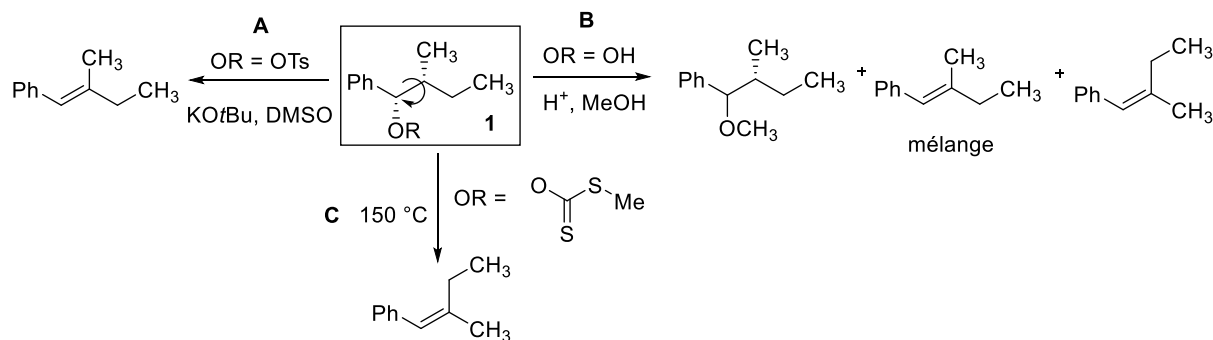
Exercice 2 (28 points)

Pour les transformations suivantes:

A) Analyser les conformations pour la rotation le long de la liaison indiquée du composé **1** en utilisant des projections de Newman. Dessiner ensuite un profil d'énergie approximatif pour cette rotation (9 points)

B) Proposez un mécanisme pour les 3 transformations **A**, **B** et **C**. (10 points).

C) Dessiner les interactions orbitales avec leur niveau d'énergie qui sont impliquées dans les états de transition décisifs pour la sélectivité des réactions **A** et **B** (9 points)

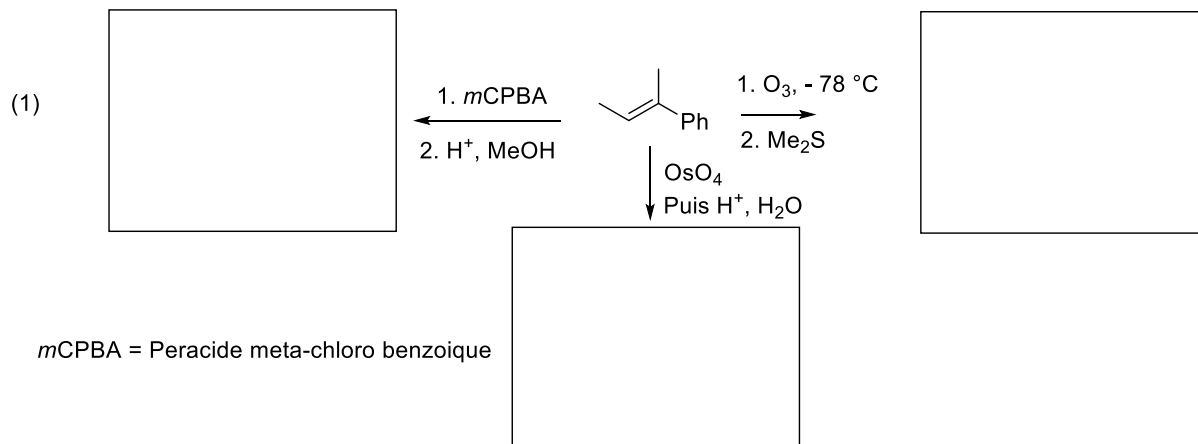



Vos réponses

Vos réponses

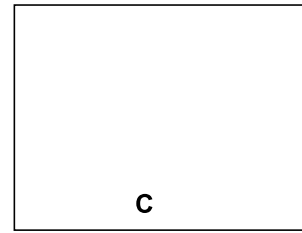
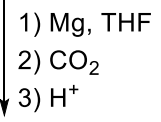
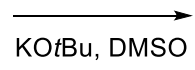
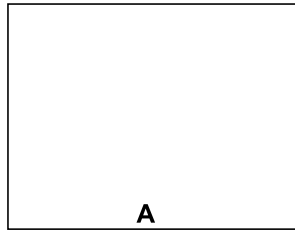
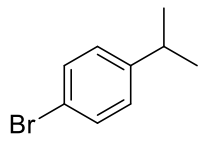
Exercice 3 (27 points)

Indiquer les produits obtenus sous les conditions suivantes et proposer un mécanisme pour les transformations. Justifier les sélectivités observées si nécessaire.


**Mécanisme**



(2)

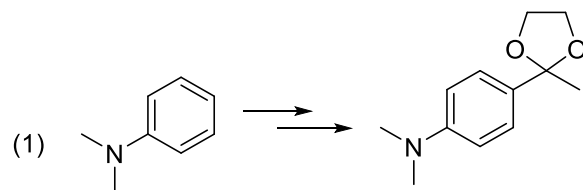


Mécanisme



Exercice 4 (36 points)

Proposer des conditions pour les transformations suivantes et donner le mécanisme pour les transformations. Justifier les sélectivités observées si nécessaire.



Vos réponses

