

## Chimie Générale Avancée I-Partie Organique

Judi 24 janvier 2019, 8h15 – 11h15

### Conditions d'examen

- Les sacs doivent être déposés en bas de l'auditoire au début de l'examen.
- Les ordinateurs, les traducteurs électroniques, les calculatrices programmables et les smart phones sont interdits.
- Les candidats doivent déposer un **document d'identité** comportant une photographie en évidence sur la table. Ils devront signer une **feuille de présence** en rendant leur examen.
- Prière **de ne pas rédiger vos réponses au crayon à papier**.
- Merci de donner vos réponses sur les feuilles prévues à cet effet dans ce document. Il est autorisé de mettre une partie de la réponse sur la question elle-même. Des feuilles de brouillons seront mises à disposition. Si les feuilles de brouillon sont rendues avec l'examen, leur contenu sera considéré comme réponse à part entière.
- Prière de rendre ce document séparément de l'examen du Prof. Corminboeuf.
- Durée de l'examen : 3h00 (pour les deux parties), **sauf exceptions validées par le SAC**
- Les dessins/explications illisibles seront considérées comme fausses. Si vous vous rendez compte qu'une partie de votre réponse est incorrecte, vous devez impérativement la tracer et écrire "FAUX" à côté. Cette partie ne sera alors pas considérée.
- La partie organique compte pour **un tiers de la note finale**. 40 points sont possibles à la partie organique de l'examen.
- **A la fin de l'examen**: Merci de contrôler avoir mis votre nom en première page, descendre apporter vos copies complètes en bas de la salle, les deux parties séparément et signer pour confirmer, reprendre vos affaires et remplir la feuille d'évaluation.

### Matériel autorisé

- Modèles moléculaires
- Calculatrice non programmable
- Le tableau périodique qui sera mis à disposition.
- Le formulaire qui sera mis à disposition

NOM : .....

Prénom : .....

Section : .....

N° de place : .....

Ex N°1 : ...../16

Ex. N°3...../10

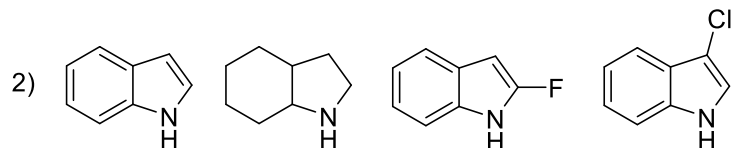
Ex N°2 : ...../14

**Total** : ...../40

## Exercice 1 (16 points)

A) Pour chaque série, ranger les composés par ordre d'acidité croissante ( $pK_A$  décroissant).  
**Justifiez vos réponses.** (8 points)

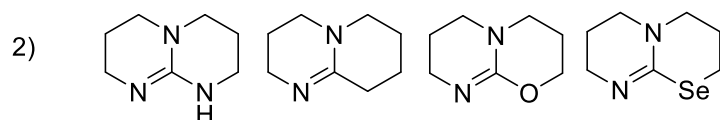
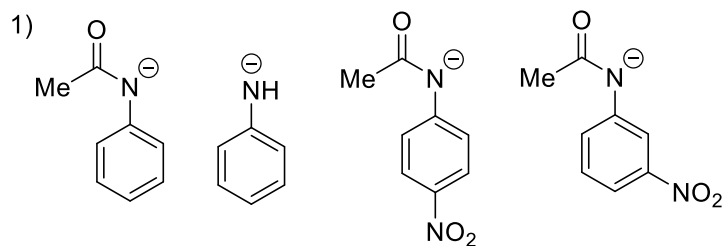
1)  $H_2N_2O_2$ ,  $HNO_3$



**Vos réponses**

**Vos réponses**

B) Pour chaque série, ranger les composés par ordre de basicité croissante ( $pK_{AH}$  croissant).  
**Justifiez vos réponses.** (8 points)

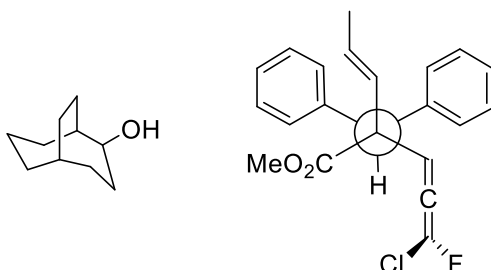


**Vos réponses**

**Vos réponses**

## Exercice 2 (14 points)

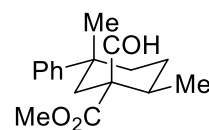
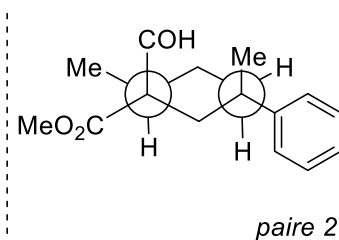
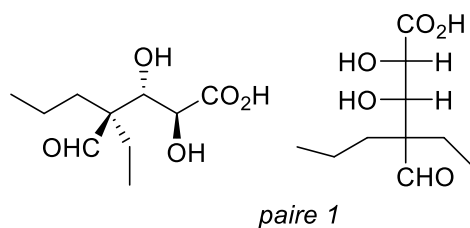
A) Dans les molécules suivantes, indiquez par un astérisque les éléments de chiralité et les oléfines de géométrie définie. Donnez la configuration absolue de ces éléments de chiralité en utilisant les stéréodescripteurs R et S et la géométrie des oléfines avec les descripteurs E et Z et indiquer l'ordre de priorité des substituants. (9 points)



Vos réponses

**Vos réponses**

B) Pour les paires de molécules ci-dessous, indiquez la relation stéréochimique existant entre les molécules de la paire (identiques, énantiomères, diastéréoisomères). **Vous devez justifier clairement vos réponses.** (5 points)



**Vos réponses**

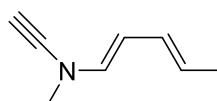


**Vos réponses**

### Exercice 3 (10 points)

Pour la molécule dessinée ci-dessous:

- 1) Déterminer l'hybridation de tous les atomes et justifier votre choix en vous basant sur le modèle VSEPR. Si vous trouvez une ou plusieurs exceptions, justifiez la/les sur la base de structures de résonance. (3 points)
- 2) Dessinez les interactions liantes entre les orbitales atomiques de la molécule, sans diagramme d'énergie. Ajoutez les électrons de manière correcte dans toutes les orbitales. (3 points)
- 3) Cette molécule contient deux liaisons simples carbone-carbone. Laquelle des deux est la plus courte? Justifiez votre réponse au moyen de structures de résonance et d'interactions entre orbitales. (4 points)



**Vos réponses**

**Vos réponses**